

## PRUEBA ACCESO A CICLOS FORMATIVOS DE GRADO MEDIO

PARTE DE COMUNICACIÓN

DATOS DEL ASPIRANTE		CALIFICACIÓN PRUEBA	
Apellidos:		Nombre:	
D.N.I. o Pasaporte:	Fecha de nacimiento:                    /                    /		

### Instrucciones:

- **Lee atentamente el texto y las preguntas antes de contestar.**
- **La puntuación máxima de cada pregunta está indicada en cada enunciado.**
- **Revisa cuidadosamente la prueba antes de entregarla.**

### TEXTO:

## Fran Perea ("Hospital Central"): "Soy un actor disciplinado"

Colpisa 11/02/2008

De paciente a médico. Hace más de cinco años, Fran Perea "ingresó" en 'Hospital Central' por exigencias del guión -interpretaba a un joven futbolista que ve truncada su carrera por una lesión en la rodilla-. Ahora, el actor y cantante malagueño regresa a la que es la serie más longeva de la pequeña pantalla como facultativo. El inseguro Marcos de 'Los Serrano' se incorpora a la plantilla de urgencias del Central como médico residente, personaje que al tener fecha de caducidad le ha permitido terminar la grabación del que es su tercer álbum de estudio.

#### ¿Cómo ha llevado la bata blanca?

Muy bien. En esta serie me encuentro como en casa. Además, hago un personaje cerrado, sólo aparezco en un número determinado de capítulos -no dice cuántos-.

#### ¿Por qué aceptó este trabajo?

Porque es una serie de calidad. También me llamó la atención que el papel era distinto a lo que había hecho, y que no era comedia.

#### ¿Quiere que se olviden de su paso por "Los Serrano"?

No quito nada de mi carrera. Y no me molesta nada que me sigan recordando por esa serie, a la que he vuelto a visitar. Yo no veo este trabajo como el cierre de una etapa, pero lo que queremos los actores es hacer papeles distintos.

#### ¿Qué me puede contar de su personaje, Enrique Trujillo?

No mucho. Es un residente de primer año amable, discreto, muy normalito. Es un tipo que cae bien, que casi pasa desapercibido para el resto de sus compañeros, y que guarda un secreto. Pasan una serie de cosas y ese secreto sale a la luz.

#### Entonces, Trujillo no es un personaje fijo de "Hospital Central".

No. Tiene un principio y un fin. Como estaba con mi tercer disco, no quería meterme a tope en una serie, y ésta me ha permitido hacer la grabación y seguir desarrollándome como actor.

#### ¿Algún contacto con el mundo sanitario?

Tengo un tío médico y un tía enfermera a los que he preguntado alguna cosa. 'Hospital Central' tiene un grupo estupendo de asesores que te aclaran todas las dudas. Estar en la serie te hace entender un poco más cómo se trabaja en los hospitales. La sanidad pública que tenemos en España es un gustazo, es para sentirse orgulloso.

#### ¿Espera que 'Hospital Central' cambie su vida como le pasó con 'Los Serrano'?

'Los Serrano' pegó el pelotazo y al entrar cada semana en su casa, pues te conviertes en una pieza de su vida. Es una sensación rara porque tú tienes tu vida y la gente te ve como alguien de su familia.

#### ¿Cómo se definiría como actor?

No sé, no sé. Me gusta involucrarme, sentir los proyectos míos. Pienso que soy disciplinado y profesional.

(Entrevista publicada en [LaguiaTV.com](http://LaguiaTV.com). Fragmentos)



## PREGUNTAS:

### 1.- Después de leer el texto anterior, contesta brevemente a las siguientes preguntas: (2 puntos)

1. Además de actor, ¿qué otro oficio tiene Fran Perea?

.....

2. ¿Cómo se llama el personaje que interpreta ahora en "Hospital Central"?

.....

3. ¿Cómo se llama el personaje que hacía en "Los Serrano"?

.....

4. ¿Qué contactos tiene realmente Fran Perea con el mundo sanitario?

.....

### 2.- Identifica el tipo de texto marcando con una cruz la respuesta correcta y justifica tu respuesta: (1 punto)

Artículo de opinión

Noticia

Entrevista

#### Justificación:

.....

.....

### 3.- Teniendo en cuenta el contenido del texto anterior, identifica las siguientes afirmaciones como verdaderas (V) o falsas (F): (1 punto)

Fran Perea sale ahora por primera vez en "Hospital Central".

El personaje que interpreta sale en todos los capítulos de "Hospital Central".

Fran Perea aceptó el papel en "Hospital Central" porque no era una comedia.

Fran Perea quiere que se olvide su paso por "Los Serrano".

### 4.- Elige un personaje famoso y escribe un diálogo con preguntas sobre su trabajo, sus aficiones, su vida... Lógicamente, tendrás que imaginar las respuestas. Sigue el modelo del texto de la prueba: (2 puntos)

.....



.....

.....

.....

.....

.....

.....

.....

.....

**5.- En el texto se emplean algunas expresiones coloquiales. Explica su significado. Si tienes alguna duda, fijate el contexto en que aparecen: (1 punto)**

- *METERSE A TOPE:*

**SIGNIFICADO:** .....

- *PEGAR EL PELOTAZO:*


**SIGNIFICADO:** .....

**6.- Las siguientes palabras están formadas a partir de un verbo. Escribe el verbo del que derivan. El primer ejemplo está resuelto: (1 punto)**

<b>PALABRAS</b>	<b>VERBO DEL QUE DERIVAN</b>
EXIGENCIA	EXIGIR
CANTANTE	
RESIDENTE	
DESAPERCIBIDO	
GUSTAZO	

**7.- Combina las oraciones de la primera columna de manera que resulte una sola oración. El primer ejemplo está resuelto: (1 punto)**

<b>ORACIONES SIMPLES</b>	<b>ORACIÓN COMPUESTA</b>
1.- <i>Me he comprado un coche</i> 2.- <i>El coche tenía un gran descuento</i>	<i>Me he comprado un coche que tenía un gran descuento</i>
1.- <i>Los alumnos salieron de clase</i> 2.- <i>Ellos habían acabado el examen</i>	
1.- <i>Acabo de leer un libro</i> 2.- <i>El libro trata de aventuras</i>	



**8.- Identifica como verdaderas (V) o falsas (F) las siguientes afirmaciones sobre los usos coloquiales y formales: (1 punto)**

- Los usos coloquiales se producen en situaciones de gran formalidad.*
- Los vulgarismos son propios del habla formal.*
- Una persona culta sabe cambiar del registro coloquial al formal según la situación.*
- Las personas cultas sólo utilizan el habla formal.*



## PRUEBA ACCESO A CICLOS FORMATIVOS DE GRADO MEDIO

PARTE SOCIAL

DATOS DEL ASPIRANTE		CALIFICACIÓN PRUEBA	
Apellidos:		Nombre:	
D.N.I. o Pasaporte:	Fecha de nacimiento:                    /                    /		

### **Instrucciones:**

- **Lee atentamente cada una de las preguntas antes de contestar.**
- **La puntuación máxima de cada pregunta está indicada en cada enunciado.**
- **Revisa cuidadosamente la prueba antes de entregarla.**

### **1) Indica si son VERDADERAS o FALSAS las siguientes afirmaciones: 1 PUNTO**

- El movimiento de Traslación de la Tierra dura 24 horas.
- El Parque Natural de Cabo de Gata-Níjar se encuentra en Andalucía.
- La Mezquita de Córdoba la construyeron los romanos.
- España tiene una alta esperanza de vida.
- La Constitución española tiene más de 200 años de antigüedad.

### **2) Relaciona mediante flechas los siguientes conceptos: 1 PUNTO**

- |                      |                           |
|----------------------|---------------------------|
| - DOÑANA             | - PESCA                   |
| - DESERTIFICACIÓN    | - DIEGO VELÁZQUEZ         |
| - SECTOR PRIMARIO    | - PROBLEMA MEDIOAMBIENTAL |
| - NAPOLEÓN BONAPARTE | - PARQUE NACIONAL         |
| - BARROCO            | - GUERRA DE INDEPENDENCIA |

### **3) Marca con una X las afirmaciones correctas entre las que aparecen a continuación: 1 PUNTO**

- La Constitución española reconoce el Derecho a la Autonomía de las nacionalidades.
- La tolerancia es un deber ciudadano.
- El Monte Everest se localiza en el continente asiático.
- El sector terciario es el más importante en la economía andaluza.
- Las pirámides de Egipto las construyeron los árabes.

### **4) Completa las siguientes frases con los conceptos correspondientes: 1 PUNTO**

- El turismo pertenece al sector \_\_\_\_\_ de la economía.
- La capital de Alemania es \_\_\_\_\_.
- El río Indo discurre por el continente \_\_\_\_\_.
- El \_\_\_\_\_ es la Ley fundamental de la Autonomía andaluza.
- Barcelona se localiza en la Comunidad Autónoma de \_\_\_\_\_.



**5) Completa este cuadro indicando con una X de qué tipo es cada una de las industrias seleccionadas:  
1 PUNTO**

INDUSTRIA	BÁSICA	BIENES DE EQUIPO	DE BIENES DE USO Y CONSUMO
Petroquímica			
Artes gráficas			
Siderurgia			
Maquinaria eléctrica			
Alimentaria			

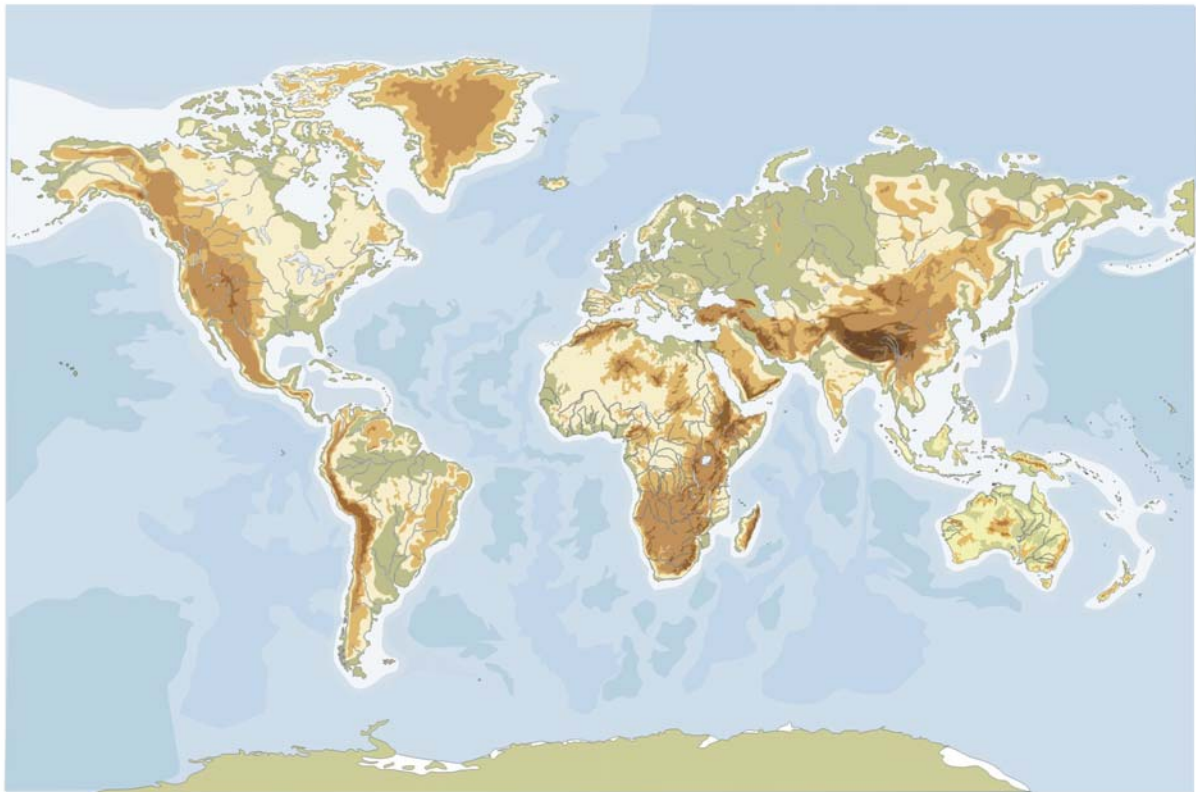
**6) Indica con una X cuáles de las siguientes situaciones caracterizan a una sociedad tolerante y solidaria:  
1 PUNTO**

- Xenofobia
- Respeto a otras religiones
- Atención a los sectores más desfavorecidos
- Coeducación
- Derechos Humanos limitados

**7) Localiza y sitúa en el PLANISFERIO los siguientes espacios geográficos, mediante los números siguientes:  
1 PUNTO**

- 1- Río NILO
- 2- Península IBÉRICA.
- 3- OCÉANO ÍNDICO
- 4- GROENLANDIA
- 5- Archipiélago del JAPÓN.





**8) Localiza en el MAPA DE ESPAÑA los siguientes espacios, mediante los números siguientes:  
1 PUNTO**

- 1- - Río TAJO
- 2- - Cordillera de los PICOS DE EUROPA
- 3- - Cabo de GATA
- 4- - Golfo de VIZCAYA
- 5- - Isla de MENORCA





**9) Relaciona mediante flechas los personajes con los conceptos históricos: 1 PUNTO**

- |                      |                     |
|----------------------|---------------------|
| - Carlos Marx        | - América           |
| - Cristóbal Colón    | - Armada Invencible |
| - Felipe II          | - Derechos Humanos  |
| - Martin Luther King | - Helenismo         |
| - Alejandro Magno    | - Socialismo        |

**10) Indica en qué provincia andaluza se localizan los siguientes PARQUES y ESPACIOS NATURALES PROTEGIDOS: 1 PUNTO**

- |                                       |                   |
|---------------------------------------|-------------------|
| - Sierra de Aracena y Picos de Aroche | - Provincia de... |
| - Sierra de la Subbética              | -                 |
| - Sierra de Cazorla                   | -                 |
| - Sierra de El Torcal                 | -                 |
| - Sierra de Grazalema                 | -                 |





## PRUEBA ACCESO A CICLOS FORMATIVOS DE GRADO MEDIO

PARTE CIENTÍFICO-TECNOLÓGICA

DATOS DEL ASPIRANTE		CALIFICACIÓN PRUEBA	
Apellidos:		Nombre:	
D.N.I. o Pasaporte:	Fecha de nacimiento:                    /                    /		


### Instrucciones:

- **Lee atentamente las preguntas antes de contestar.**
- **La puntuación máxima de cada pregunta está indicada en cada enunciado.**
- **Revisa cuidadosamente la prueba antes de entregarla.**
- **Se permite el uso de calculadora científica, pero no con pantalla gráfica o programable**

1) Un coche consume 56 litros de gasolina en recorrer 850 kilómetros.

- ¿Cuántos litros consumirá en recorrer 1350? (1 punto)
- Si el precio de la gasolina súper es de 1,144 €/l, calcula el dinero necesario para realizar un viaje de 2000 kilómetros.(1 punto)

2) Patrick propone a Ismael y a Sara el juego siguiente: sacamos una carta de una baraja española al azar. Si sale una figura (sota, caballo, rey) de copas gano yo, si sale una carta de oros gana Ismael y si sale una carta de espadas menor de cinco gana Sara.



- Calcula que probabilidad de ganar tiene cada uno. (1 punto)
- ¿Cuál es la probabilidad de que no gane ninguno de los tres? (1 punto)



3) Relaciona los elementos de las tres columnas: los objetos, los metales con que se fabrican y la propiedad que se ha tenido en cuenta en su elección: (2 puntos)

Cerradura	Acero	Conductor de electricidad
Cable eléctrico	Aluminio	Aspecto decorativo
Tornillo	Cobre	Inoxidable
Ventana	Latón	Resistencia mecánica

4) Coloca las siguientes palabras junto a las descripciones dadas: (2 puntos)

Corazón      Estómago      Arterias      Pulmones

	Sus contracciones mantienen la sangre en circulación
	Se produce el intercambio gaseoso
	Mezcla los alimentos con los jugos gástricos
	Conducen la sangre desde el corazón a los órganos

5) Clasifica las siguientes sustancias según sean sustancias puras o mezclas: (1 punto)

llave de hierro, detergente en polvo, sal, azúcar, mayonesa, aire, hilo de cobre y lejía.

SUSTANCIAS PURAS	MEZCLAS

- Añade a las listas dos ejemplos de cada tipo de sustancias. (0,5 puntos)
- Explica qué es una sustancia pura y qué es una mezcla: (0,5 puntos)

---



---



---



---



---



---

