

PRUEBA ACCESO A CICLOS FORMATIVOS DE GRADO SUPERIOR

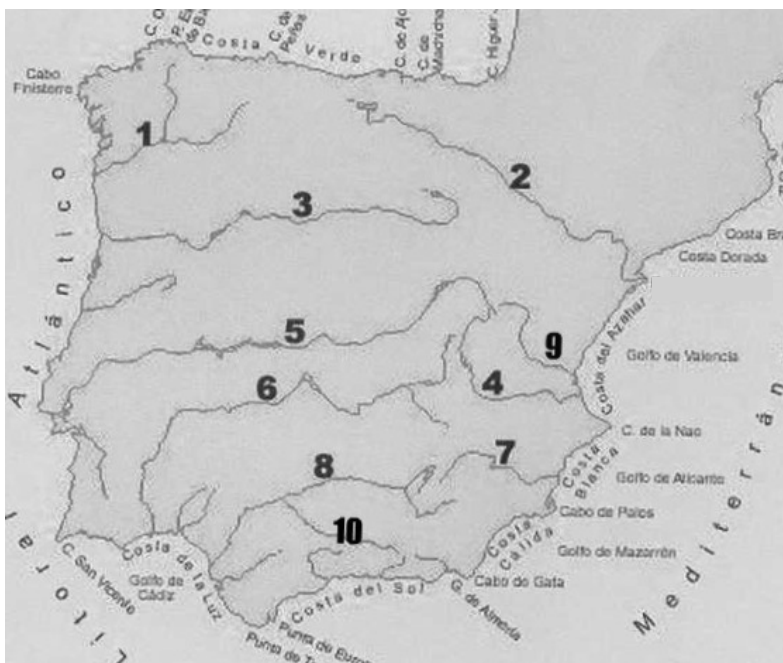
Junio 2011
OPCIÓN A: GEOGRAFÍA

DATOS DEL ASPIRANTE		CALIFICACIÓN PRUEBA	
Apellidos:		Nombre:	
D.N.I. o Pasaporte:	Fecha de nacimiento: / /		

Instrucciones:

- **Lee atentamente las preguntas antes de contestar.**
- **La puntuación máxima de cada pregunta está indicada en cada enunciado.**
- **Revisa cuidadosamente la prueba antes de entregarla.**

1. Observa el mapa físico de España y **responde** a las siguientes cuestiones: (2 puntos)



A. Relaciona los números con los nombres de los ríos correspondientes: (1 punto)

- Miño**
- Ebro**
- Duero**
- Júcar**
- Tago**
- Guadiana**
- Segura**
- Guadalquivir**
- Turia**
- Genil**

B. ¿Qué unidad de relieve se encuentra entre los ríos número 3 y 5? (0,5 puntos)

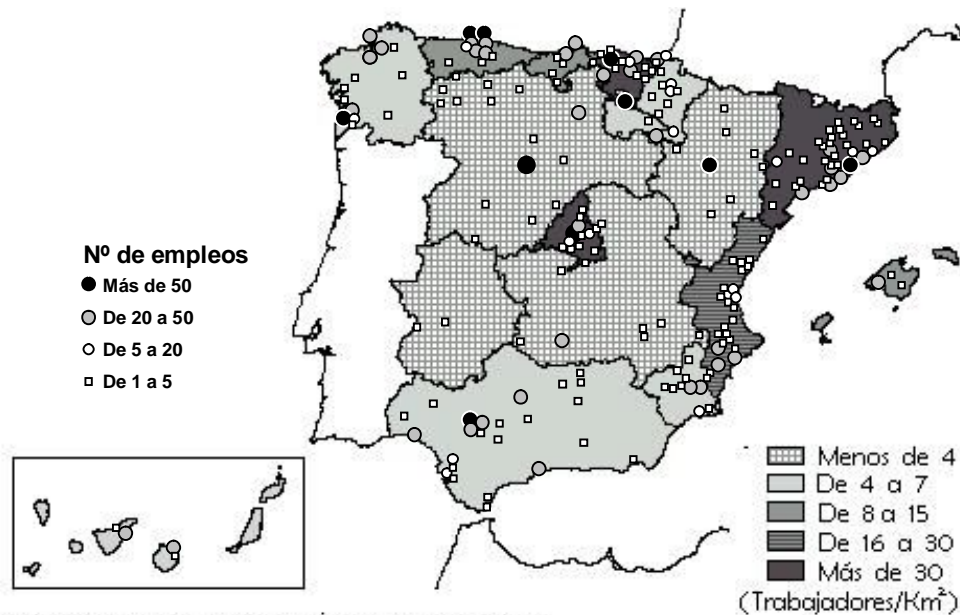
Sistema Central.

C. Clasifica los ríos según la vertiente a la que pertenecen: (0,5 puntos)

Vertiente Atlántica	Vertiente mediterránea	Vertiente cantábrica
Miño Duero Tago Guadiana Guadalquivir	Ebro Júcar Segura Turia	Ninguno



2. Analiza el siguiente mapa de España con las principales zonas industriales del país y responde a las preguntas: (2 puntos)



- A. Indica** el nombre de las cuatro Comunidades Autónomas con menor densidad de empleados industriales. (0'5 puntos)

Castilla-León, Aragón, Extremadura y Castilla La Mancha

- B. Señala** en qué zonas se concentra la industria en Andalucía. (0'5 puntos)

En el valle del Guadalquivir (Linares, Córdoba y Sevilla), en la bahía de Cádiz, y en Huelva y Málaga

- C. Explica** por qué motivos Cataluña, País Vasco y Madrid han sido tradicionalmente las zonas más industrializadas de España. (0'5 puntos)


Desde finales del siglo XIX Cataluña y el País Vasco se convirtieron en las zonas más industrializadas de España. Cataluña, con una importante tradición de burguesía comercial, desarrolló sobre todo la industria textil. En el País Vasco, su buena comunicación con Gran Bretaña y la existencia de hierro en zonas cercanas, permitió el desarrollo de la industria siderúrgica. En el caso de Madrid, y gracias sobre todo a su condición de capital del Estado, su industrialización se produjo sobre todo durante el siglo XX.

- D.** Los datos de este mapa son de 1975. Desde ese momento hasta ahora, la industria española ha sufrido importantes cambios. **Señala y explica** muy brevemente las principales transformaciones en este periodo. (0'5 puntos)

En los años 80, España vivió un importante proceso de reconversión industrial. Muchas industrias, sobre todo las pesadas, tuvieron que cerrar y se despidió a un gran número de trabajadores. Otras industrias tuvieron que modernizarse y realizar fuertes inversiones en maquinaria e I+D. Las zonas tradicionalmente industriales de la cornisa cantábrica perdieron peso a favor de Madrid y el Levante y el eje del Ebro. En general, el peso de la industria en el PIB español es menor actualmente de lo que lo era en 1975.



3. Observa el siguiente plano urbano de Barcelona y **responde** a las preguntas: (2 puntos)



Elaboración propia a partir de una imagen de Google Earth

A. Indica el nombre que reciben las zonas de una ciudad que se corresponderían con las que aparecen señaladas con los números 1 y 2: (0,5 puntos)

Zona número 1: **casco histórico**

Zona número 2: **ensanche urbano**

B. Señala el tipo de plano urbano que se puede observar tanto en la zona número 1 como en la zona número 2: (0,5 puntos)

Zona número 1: **irregular**

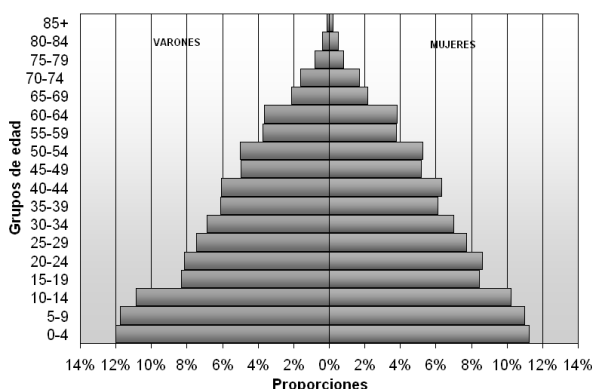
Zona número 2: **En cuadrícula (o cualquier denominación sinónima: damero, reticular, ortogonal, equirrectangular)**

C. Analiza el contexto histórico en el que surge la zona número 2 (tanto en Barcelona como en otras ciudades de España) (1 punto).

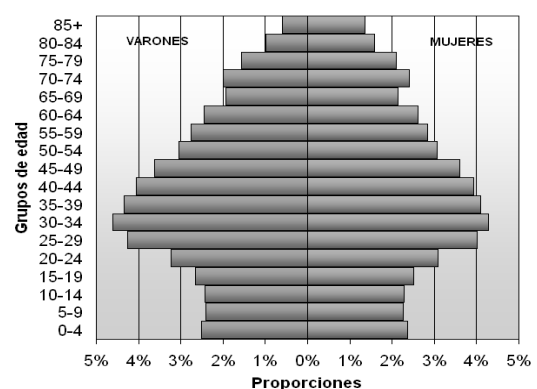
Las zonas del ensanche urbano surgen en España en la segunda mitad del siglo XIX y principios del XX, cuando se construye el ensanche urbano de ciudades como Barcelona, Madrid o Bilbao que están registrando un importante crecimiento poblacional. Las ciudades deben extenderse más allá de la zona del casco antiguo y como respuesta a esto se planifican y construyen estos ensanches urbanos, creados con una perspectiva racionalista y destinados sobre todo a la burguesía, que demanda una zona residencial con mayor calidad constructiva y más espacios verdes. Entre los ensanches más importantes creados en nuestro país destaca el que Ildefonso Cerdá creó en Barcelona en la segunda mitad del siglo XIX.

4. Observa detenidamente estas pirámides de población y **responde** a las preguntas: (2 puntos)

Pirámide de población de España, año 1900



Pirámide de población de España, año 2007



A. ¿A qué modelo demográfico pertenece cada una de estas pirámides? **Justifica tu respuesta.** (1 punto)

Pirámide de España en 1900: **Modelo demográfico antiguo**

Pirámide de España en 2007: **Modelo demográfico moderno**

B. ¿Qué nos indica la pirámide de 1900 con respecto a la esperanza de vida que había en aquella época? (0,5 puntos)

...El hecho de que el porcentaje de población disminuya de forma tan brusca conforme nos alejamos de la base indica que la mortalidad era muy elevada y la esperanza de vida muy corta

C. Teniendo en cuenta lo que aparece representando en la pirámide de 2007, ¿qué problema demográfico y social afectará a España en los próximos años? (0,5 puntos)

Es evidente que la pirámide de población refleja que España es un país envejecido. En breve, el principal problema será que habrá mucha población anciana con respecto a la población joven. Ello creará graves problemas en el terreno económico (dificultad para pagar las pensiones, ya que el número de población activa se reduce) y obligará a crear políticas específicas para atender a una población anciana tan numerosa.

5. Lee con atención las siguientes definiciones y **escribe** en el espacio en blanco el concepto geográfico correspondiente (2 puntos):

A. Es el registro de las importaciones y exportaciones de un país durante un período: **Balanza de pagos**

B. Son grandes propiedades agrarias (de más de 100 hectáreas) que predominan en Andalucía, Extremadura, Aragón y Castilla la Mancha: **Latifundios**

C. La diferencia que hay entre los nacidos y los fallecidos de un lugar concreto en un momento determinado:

Crecimiento natural o vegetativo

D. Es el peso que ejerce el aire sobre la superficie terrestre en un punto concreto: **presión atmosférica**

E. Diferencia entre la temperatura media del mes más cálido y la temperatura media del mes más frío de un lugar determinado: **amplitud térmica**

F. Trayecto que sigue un río desde su nacimiento a su desembocadura: **curso de un río**

G. Nombre del tratado firmado en 1957 por la República Federal de Alemania, Francia, Italia, Holanda, Bélgica y Luxemburgo. Este tratado puso en marcha la Comunidad Económica Europea: **Tratado de Roma**

H. Recursos que proceden de la naturaleza a partir de los cuales se obtienen productos elaborados o semielaborados. Se pueden clasificar en dos tipos: los de origen mineral y los de origen orgánico:

materias primas

