

PRUEBA ACCESO A CICLOS FORMATIVOS DE GRADO MEDIO

PARTE DE COMUNICACIÓN

DATOS DEL ASPIRANTE		CALIFICACIÓN PRUEBA	
Apellidos:		Nombre:	
D.N.I. o Pasaporte:	Fecha de nacimiento: / /		

Instrucciones:

- **Lee atentamente el texto y las preguntas antes de contestar.**
- **La puntuación máxima de cada pregunta está indicada en cada enunciado.**
- **Revisa cuidadosamente la prueba antes de entregarla.**

TEXTO:

Detenidos cinco jóvenes en Vizcaya por vejar a un discapacitado y colgar las imágenes en Internet

EL PAÍS. Agencias - Bilbao - 09/01/2008

Cinco jóvenes de entre 18 y 22 años han sido detenidos en Portugalete (Vizcaya) por rapar la cabeza y las cejas a un discapacitado psíquico y grabar las vejaciones con sus teléfonos móviles para difundir las imágenes a través de un portal de Internet.

El suceso ocurrió el pasado 14 de noviembre en una lonja que comparte en régimen de alquiler un grupo de jóvenes en este municipio. La víctima se encontraba en el local cuando, al parecer, uno de ellos convenció al resto para raparle la cabeza y las cejas con tijeras y maquinillas de afeitarse.

Ante la resistencia de la víctima, los agresores le infligieron cortes en el cuero cabelludo y contusiones por todo el cuerpo. "Una vez que acabaron de raparle, le amenazaron con darle una paliza si denunciaba lo ocurrido", según fuentes del departamento de Interior.

Grabado con móviles

Los hechos fueron grabados con teléfonos móviles por otras dos personas que se encontraban en la lonja y que no participaron en la agresión. Posteriormente, los vídeos fueron difundidos en un portal de Internet. Tras recibir la denuncia de lo ocurrido, la Ertzaintza¹ inició las investigaciones para identificar a los presuntos autores del suceso. La investigación se ha saldado con la detención de los cinco agresores y la imputación por los mismos delitos de los dos jóvenes que grabaron la agresión.

¹ Ertzaintza: Policía autónoma vasca



PREGUNTAS:

1.- ¿Cuál de los siguientes enunciados resume mejor la idea principal del texto anterior?. Señala con una cruz la respuesta correcta: (1 punto)

- Muchos discapacitados sufren agresiones en España.*
- Varios jóvenes agreden a un discapacitado en Portugalete y difunden las imágenes de la agresión por Internet.*
- Los teléfonos móviles sirven para grabar imágenes.*

2.- Identifica el tipo de texto (Marca con una cruz la respuesta correcta): (1 punto)

- Artículo de opinión
- Noticia
- Carta al director

3.- Teniendo en cuenta el contenido del texto anterior, identifica las siguientes afirmaciones como verdaderas (V) o falsas (F): (1 punto)

- La víctima no sufrió daños.*
- Las imágenes de la agresión se difundieron en Internet.*
- Los hechos fueron grabados con una cámara de vídeo.*
- El suceso ocurrió en España.*

4.- El texto incluye varias formas discursivas.

- **Pero, ¿cuál domina? Marca con una cruz la respuesta correcta: (0,5 punto)**

- La narración
- La descripción

- **¿Por qué?: (0,5 punto)**

.....
.....

5.- Expresa tu opinión sobre el tema en un breve texto: (2 puntos)

.....
.....
.....
.....



.....

.....

.....

.....

.....

.....

6.- Aporta un sinónimo de las siguientes palabras y escribe una oración con cada una de ellas: (1 punto)

- *AGREDIR:*

SINÓNIMO:

ORACIÓN:

- *RAPAR:*

SINÓNIMO:

ORACIÓN:

7.- Empareja cada palabra con su categoría gramatical, colocando en las casillas en blanco los números correspondientes: (1 punto)

1.-	<i>Acabaron</i>		Preposición
2.-	<i>En</i>		Verbo
3.-	<i>Vez</i>		Adjetivo
4.-	<i>Cabelludo</i>		Sustantivo



8.- Rellena los huecos seleccionando los verbos que aparecen en el recuadro (uno de cada par) de manera que el enunciado sea correcto: (1 punto)

DETUVO//DETENGA	HAYAN HECHO//HABÍAN HECHO
ATACARAN//ATACÁRAMOS	HAN DECLARADO//DECLAREN

Después de que los agresores _____ **(ATACAR)** ayer a la víctima, la policía
_____ **(DETENER)** a los culpables. Éstos _____
(DECLARAR) que no _____ **(HACER)** nada.

9.- Completa el siguiente texto sobre las lenguas oficiales que se hablan en España: (1 punto)

Además del _____, que se habla en todo el territorio del Estado español, son también
lenguas cooficiales el _____, el _____ y el _____.



PRUEBA ACCESO A CICLOS FORMATIVOS DE GRADO MEDIO

PARTE SOCIAL

DATOS DEL ASPIRANTE		CALIFICACIÓN PRUEBA	
Apellidos:		Nombre:	
D.N.I. o Pasaporte:	Fecha de nacimiento: / /		

Instrucciones:

- **Lee atentamente cada una de las preguntas antes de contestar.**
- **La puntuación máxima de cada pregunta está indicada en cada enunciado.**
- **Revisa cuidadosamente la prueba antes de entregarla.**

1) Indica si son VERDADERAS o FALSAS las siguientes afirmaciones: 1 PUNTO

- Los volcanes demuestran la actividad interior de la Tierra.
- El Trópico de Capricornio se encuentra en el Hemisferio Norte.
- La isla de Cuba se localiza en el Mar Mediterráneo.
- Los mares ocupan las $\frac{3}{4}$ partes de la superficie terrestre.
- La latitud es la distancia angular entre un punto cualquiera y el Meridiano 0° ó de Greenwich.

2) Corrige las afirmaciones anteriores que sean falsas y redáctalas correctamente: 1 PUNTO

- _____

- _____


- _____

- _____

- _____

3) Empareja las siguientes afirmaciones con su concepto adecuado, marcando el número correspondiente en cada casilla: 1 PUNTO

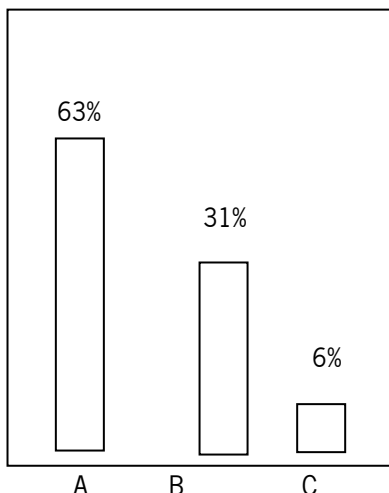
- | | |
|--|-------------------------|
| <input type="checkbox"/> Alejandro Magno difundió la cultura y civilización griegas. | 1. REVOLUCIÓN FRANCESA |
| <input type="checkbox"/> Córdoba fue la capital del Califato Omeya en el s. X. | 2. DESPOTISMO ILUSTRADO |
| <input type="checkbox"/> En el Antiguo Régimen el poder real procede de Dios. | 3. AL-ANDALUS |
| <input type="checkbox"/> “ <i>Todo para el pueblo, pero sin el pueblo.</i> ” | 4. HELENISMO |
| <input type="checkbox"/> Todos los ciudadanos son iguales ante la Ley. | 5. MONARQUÍA ABSOLUTA |



4) Relaciona mediante flechas los siguientes conceptos: 1 PUNTO

- | | |
|------------------------|-------------------------------|
| - EXPLOTACIÓN FORESTAL | - PEQUEÑA EXPLOTACIÓN AGRARIA |
| - EFECTO INVERNADERO | - COMERCIO INTERIOR |
| - MINIFUNDIO | - MOVIMIENTOS DE POBLACIÓN |
| - HIPERMERCADO | - SECTOR PRIMARIO |
| - INMIGRACIÓN | - CONTAMINACIÓN |

5) Observa la gráfica siguiente y contesta las preguntas a continuación: 1 PUNTO



En un país cualquiera, la población activa por sectores se distribuye de la siguiente manera:

- A) Población activa en el sector terciario: 63%
- B) Población activa en el sector secundario: 31%
- C) Población activa en el sector primario: 6%

- ¿A qué tipo de país corresponde la gráfica? ¿Desarrollado o subdesarrollado? ¿Por qué?

- ¿En qué sector económico incluirías las siguientes actividades profesionales:

- Minería: Sector _____
- Cine: Sector _____
- Industria: Sector _____
- Turismo: Sector _____

6) Relaciona mediante flechas los siguientes Derechos con el concepto que le corresponda:

1 PUNTO

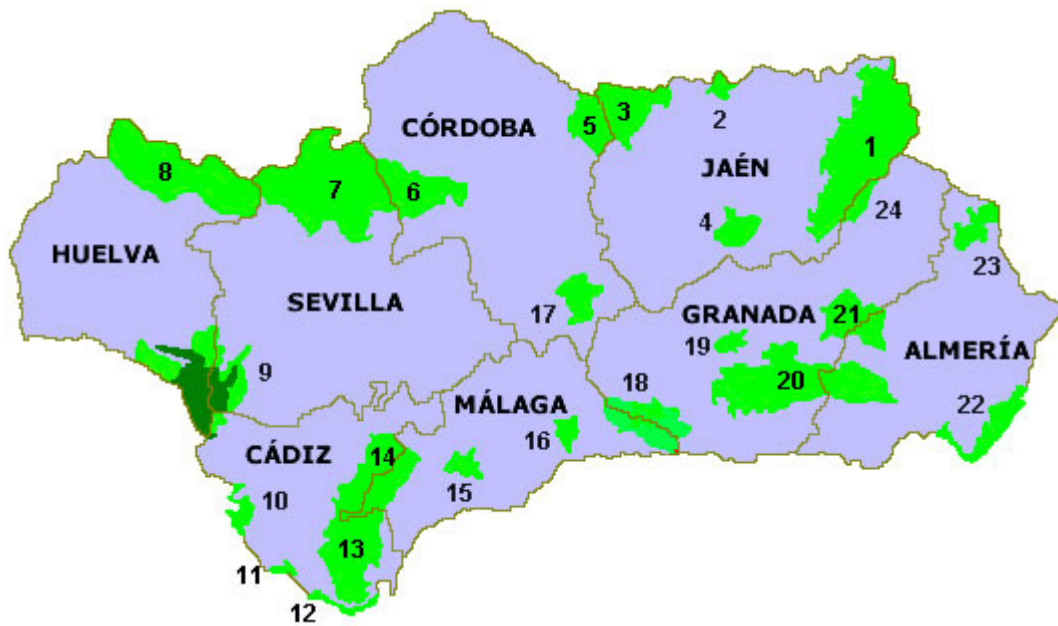
- | | |
|--|---------------------------|
| - Derecho al Voto. | - ABOLICIÓN DE LA TORTURA |
| - Derecho a la Educación | - LIBERTAD SINDICAL |
| - Derecho de Huelga | - SUFRAGIO UNIVERSAL |
| - Derecho a la Vida | - PARTIDOS POLÍTICOS |
| - Derecho a la libre Asociación Política | - ESCOLARIZACIÓN PÚBLICA |



7) Identifica los espacios naturales que aparecen en el MAPA DE ANDALUCÍA con los siguientes números:

1 PUNTO

- Parque Natural nº 7: _____
- Parque Natural nº 9: _____
- Parque Natural nº 1: _____
- Parque Natural nº 20: _____
- Parque Natural nº 22: _____



8) Marca con una X las respuestas correctas entre las afirmaciones que aparecen a continuación:

1 PUNTO

- Las pinturas de la Cueva de Altamira corresponden a la etapa paleolítica.
- Las primeras ciudades se desarrollaron en Mesopotamia y Egipto.
- La civilización romana se extendió hasta la India.
- La arquitectura griega desarrolló los órdenes clásicos.
- La catedral de Santiago de Compostela es de estilo románico.



9) **Completa el cuadro siguiente indicando el país al que pertenecen las siguientes ciudades y escribiendo qué espacio cultural se encuentra en cada una de ellas de los que te damos a continuación:**

CIUDAD	PAÍS	Espacio cultural
1 PARIS		
2 LONDRES		
3 ROMA		
4 ATENAS		
5 MOSCÚ		

ACRÓPOLIS, MUSEOS VATICANOS, MUSEO DEL LOUVRE, PALACIO DEL KREMLIN, MUSEO BRITÁNICO
2 PUNTOS



PRUEBA ACCESO A CICLOS FORMATIVOS DE GRADO MEDIO

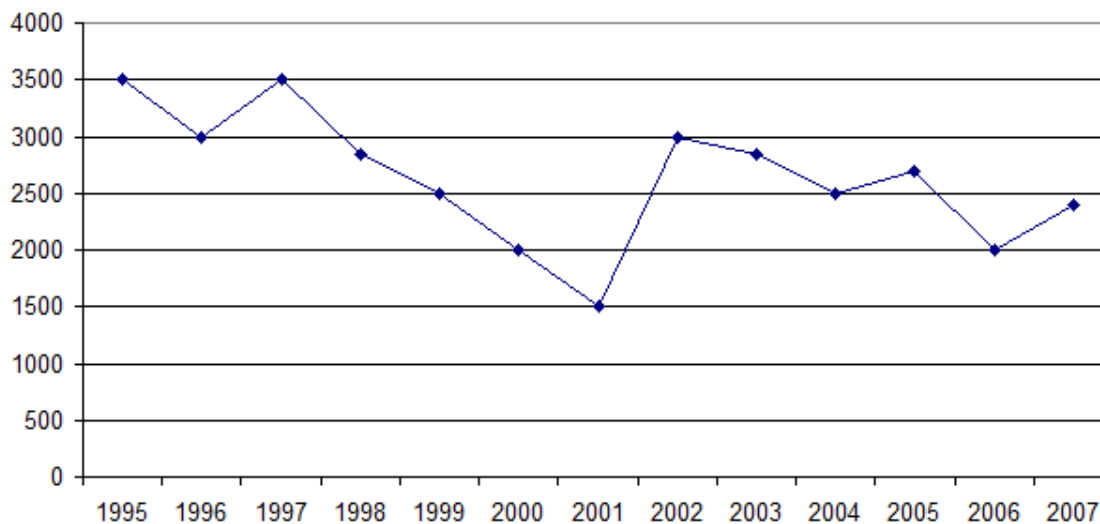
PARTE CIENTÍFICO-TECNOLÓGICA

DATOS DEL ASPIRANTE		CALIFICACIÓN PRUEBA	
Apellidos:		Nombre:	
D.N.I. o Pasaporte:	Fecha de nacimiento: / /		

Instrucciones:

- **Lee atentamente las preguntas antes de contestar.**
- **La puntuación máxima de cada pregunta está indicada en cada enunciado.**
- **Revisa cuidadosamente la prueba antes de entregarla.**
- **Se permite el uso de calculadora científica, pero no con pantalla gráfica o programable**

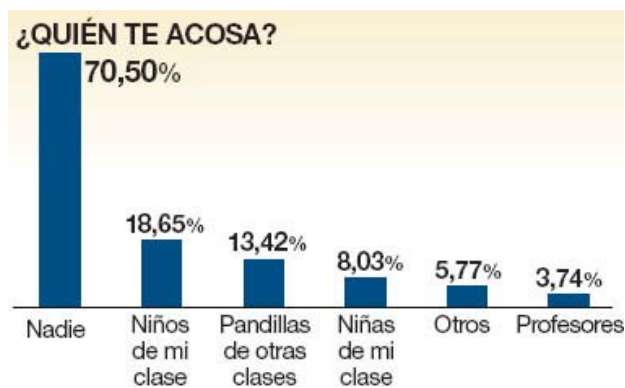
1) Contesta las siguientes cuestiones relacionadas con la gráfica que muestra las ventas de un producto en cada año: (2 puntos)



- a) ¿Cuántos productos se vendieron en 2001? _____
- b) ¿Cuántos se vendieron más en 2004 que en 2006? _____
- c) ¿Cuál fue la media anual de ventas entre los años 1995 y 2007? _____
- d) ¿Cuáles fueron los años en que a la empresa le fue mejor? _____

2) En el gráfico siguiente tienes los resultados de una encuesta realizada a una muestra de 500 escolares de diferentes comunidades autónomas sobre acoso escolar.






- a. ¿Cuántos escolares de la muestra dijeron no haber sufrido acoso escolar? (1 punto)
- b. Señala si las siguientes afirmaciones sobre el gráfico son verdaderas o falsas (1 punto)
 - i. Más de un cuarto de los escolares padecen acoso escolar.
 - ii. Más de una décima parte de los escolares han sido acosado por niñas.
 - iii. Individualmente los niños acosan más que las niñas.
 - iv. Los principales acosadores son los propios compañeros de clase de los escolares.

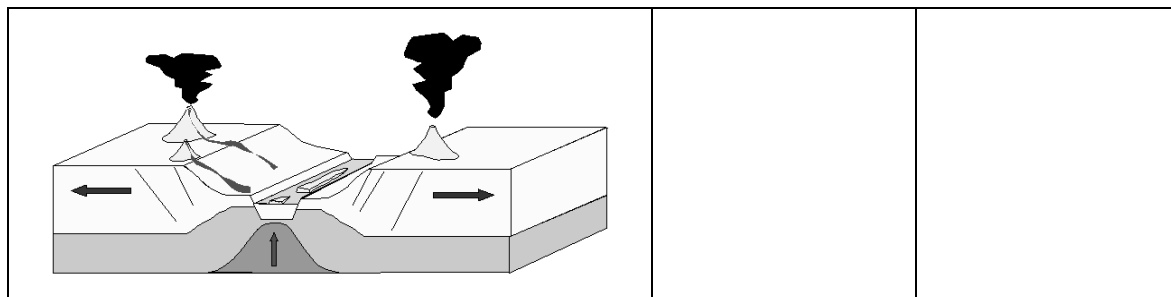
3) Une cada elemento y el sentido con el que se relaciona: (2 puntos)

- | | |
|---------|--------|
| Retina | Gusto |
| Tímpano | Olfato |
| Mucosa | Oído |
| Lengua | Vista |

4) Observa las figuras sobre tectónica de placas que aparecen en la siguiente tabla y coloca junto a ellas el nombre del proceso que representan y las características del mismo (2 puntos)

	Proceso	Características





Procesos:

A. Rifting	B. Subducción	C. Dorsal oceánica
------------	---------------	--------------------

Características:

1. Proceso que tiene lugar cuando la litosfera continental disminuye su grosor por esfuerzos en sentido contrario (debido a las corrientes de convección del capa superior del manto) y acaba por romperse creando fallas y volcanes.
2. La placa litosférica es más densa y menos gruesa que la placa continental, lo que hace que al chocar se hunda produciendo un rozamiento que hace aumentar la temperatura y funde algunos materiales.
3. Relieve submarino formado por el adelgazamiento de la corteza terrestre que permite el ascenso de magma el cual se enfría en la superficie. Se encuentran asociados a los márgenes divergentes de las placas tectónicas y representan la formación de nueva litosfera.

5) Agrupa los siguientes periféricos según sean de entrada o salida de datos: (2 puntos)

teclado, ratón, monitor, escáner, impresora, altavoz, micrófono y webcam.

DE SALIDA	DE ENTRADA



